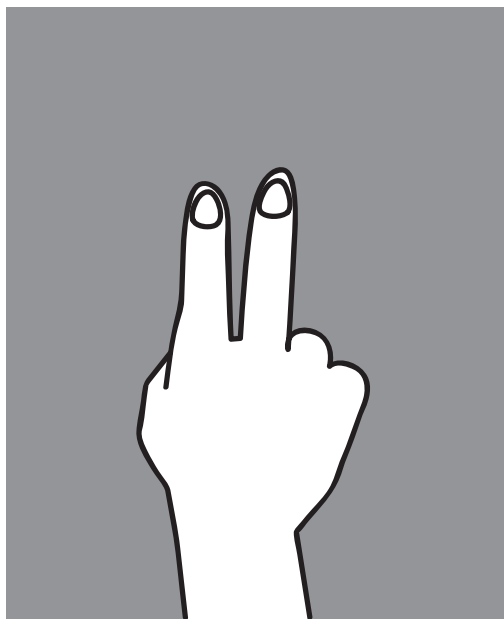


考えることが楽しい問題例①

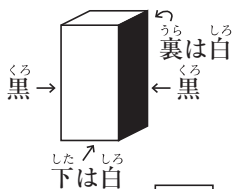
ず
図のように鏡に写った手は

かがみ うつ て
みぎて ひだりて
右手と左手のどちらでしょう？

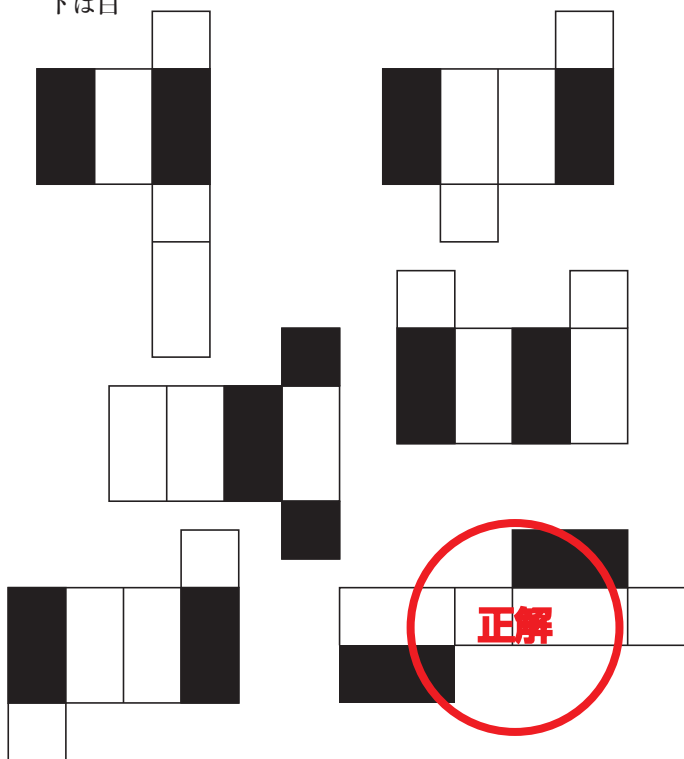


正解:左手

考えることが楽しい問題例②



く た ひだり はこ
 組み立てると左のような箱になるものに
 ○を付けなさい。



考えることが楽しい問題例④

した かたち かみ 下のような形の紙があります。これを裏にするとどの形になりますか。

①～④から選んで○をつけなさい。

	①	②	③	④
	①	②	③	④
	①	②	③	④
	①	②	③	④
	①	②	③	④